

**Проверочная работа  
по МАТЕМАТИКЕ**

**6 класс**

**Вариант 7**

**Инструкция по выполнению работы**

На выполнение работы по математике даётся 60 минут. Работа содержит 13 заданий.  
В заданиях, после которых есть поле со словом «Ответ», запишите ответ в указанном месте.

В задании 12 нужно сделать чертёж или рисунок.

В заданиях, после которых есть поле со словами «Решение» и «Ответ», запишите решение и ответ в указанном месте.

Если Вы хотите изменить ответ, зачеркните его и запишите рядом новый.

При выполнении работы нельзя пользоваться учебниками, рабочими тетрадями, справочниками, калькулятором.

При необходимости можно пользоваться черновиком. Записи в черновике проверяться и оцениваться не будут.

Советуем выполнять задания в том порядке, в котором они даны. Для экономии времени пропускайте задание, которое не удаётся выполнить сразу, и переходите к следующему. Постарайтесь выполнить как можно больше заданий.

***Желаем успеха!***

---

*Заполняется учителем, экспертом или техническим специалистом*

**Обратите внимание:** в случае, если какие-либо задания не могли быть выполнены целым классом по причинам, связанным с отсутствием соответствующей темы в реализуемой школой образовательной программе, в форме сбора результатов ВПР всем обучающимся класса за данное задание вместо балла выставляется значение «Тема не пройдена». В соответствующие ячейки таблицы заполняется н/п.

*Таблица для внесения баллов участника*

Номер задания	1	2	3	4	5	6	7	8	9	10	11	12	13	Сумма баллов	Отметка за работу
Баллы															

**1**

Вычислите:  $-93 - 13 \cdot (-6)$ .

Ответ:	
--------	--

**2**

Вычислите:  $\frac{1}{13} + \frac{6}{11} : \frac{13}{22}$ .

Ответ:	
--------	--

**3**

Задумали число. Из 165 вычли удвоенное задуманное число и получили седьмую часть задуманного числа. Найдите задуманное число.

Ответ:	
--------	--

**4**

Вычислите:  $(-2 + 0,875) \cdot 16$ .

Ответ:	
--------	--

**5**

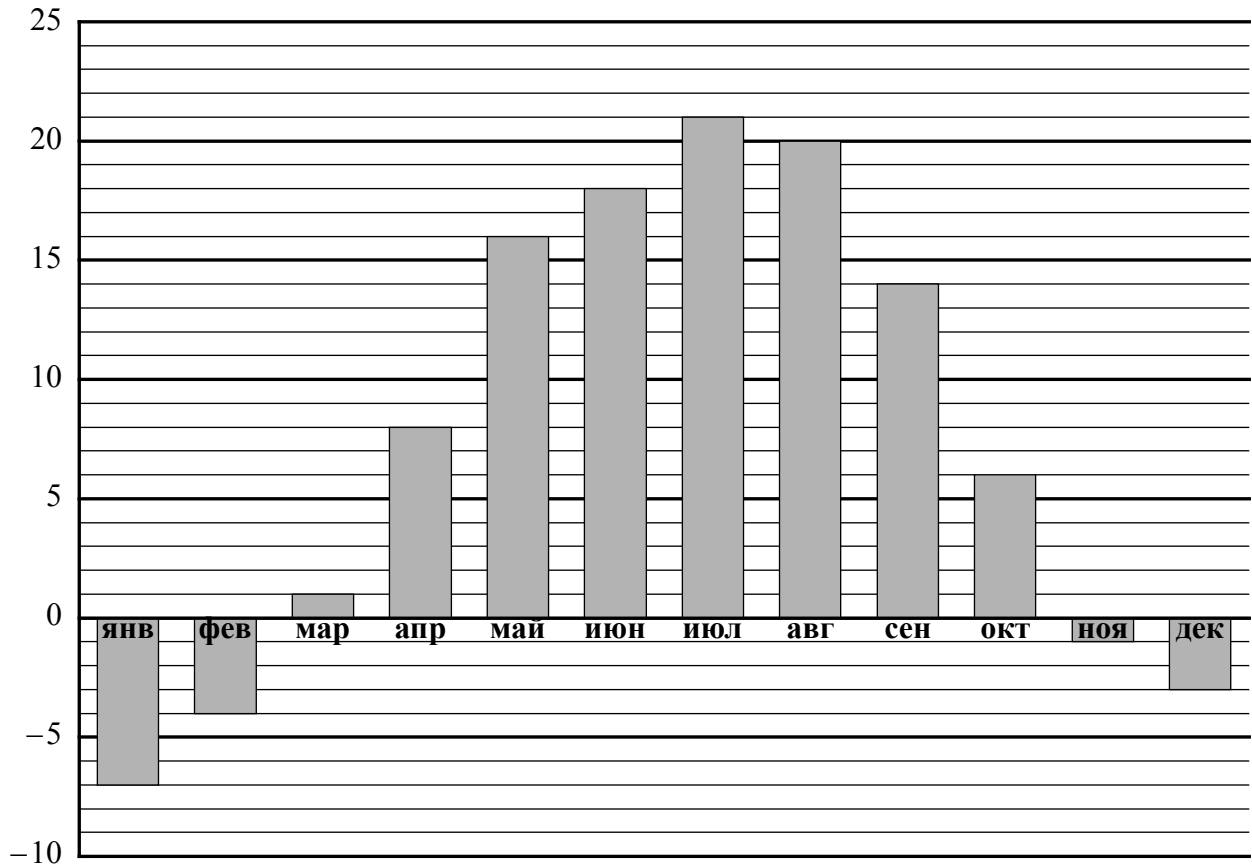
На рисунке изображены проектор и настольная лампа. Высота проектора 10 см. Какова примерная высота настольной лампы? Ответ дайте в сантиметрах.




Ответ:	
--------	--

6

На диаграмме показана средняя температура воздуха в Воронеже в каждом месяце. По вертикали указана температура воздуха в градусах Цельсия, по горизонтали — месяцы. В каком месяце первого полугодия средняя температура воздуха была самой высокой?



Ответ:

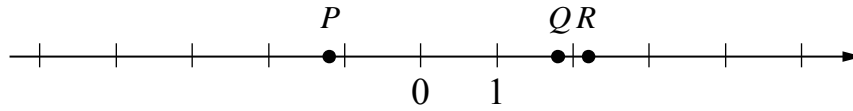
7

Найдите значение выражения  $9x - 5 \cdot |-x - 11|$  при  $x = -6$ .

Ответ:

8

Даны числа:  $-2,2$ ;  $2,2$ ;  $1,8$ ;  $-1,2$  и  $-1,8$ . Три из них отмечены на координатной прямой точками  $P$ ,  $Q$  и  $R$ .



Установите соответствие между точками и числами.

- |        | ТОЧКИ |           | ЧИСЛА |
|--------|-------|-----------|-------|
| A) $P$ |       | 1) $-2,2$ |       |
| B) $Q$ |       | 2) $2,2$  |       |
| B) $R$ |       | 3) $1,8$  |       |
|        |       | 4) $-1,2$ |       |
|        |       | 5) $-1,8$ |       |

В таблице для каждой точки укажите номер соответствующего числа.

Ответ:

А	Б	В

9

Вычислите:  $\frac{9}{16} \cdot \left( \frac{1}{4} + \frac{5}{12} \right) - \frac{8}{15} : \frac{16}{45}$ .

Запишите решение и ответ.

Решение.	
Ответ:	



12

На рисунке 1 показаны фигуры, симметричные относительно точки  $O$ . На рисунке 2 показаны фигура и точка  $O$ . Нарисуйте фигуру, симметричную данной фигуре относительно точки  $O$ , на рисунке 2.

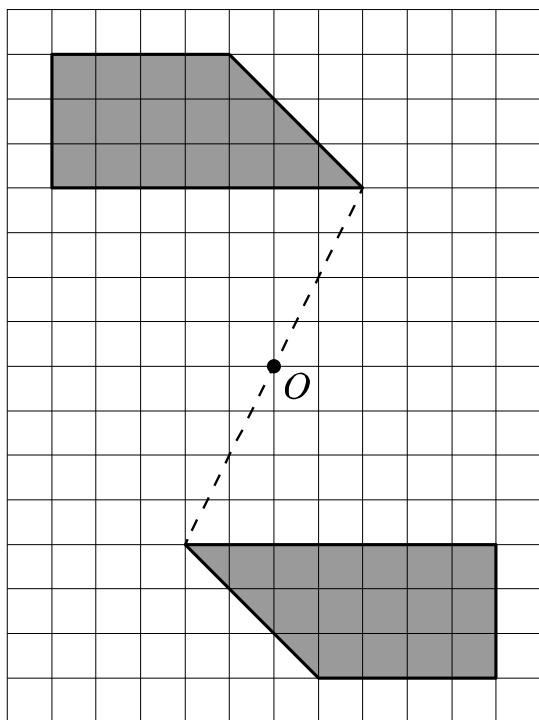


Рис. 1

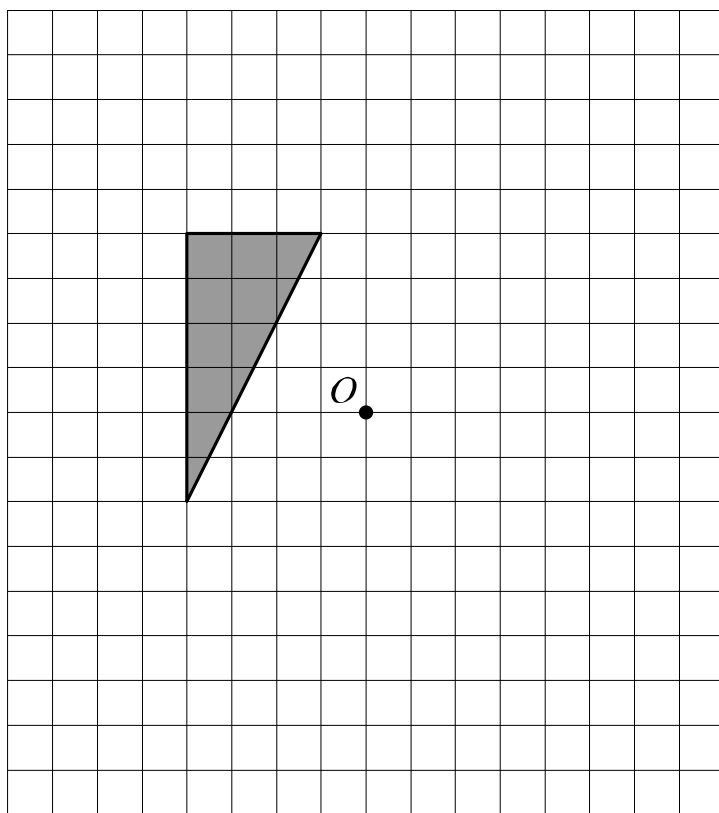


Рис. 2



13

Ира загадала четырёхзначное число. Из загаданного числа она вычла сумму его цифр, у полученной разности зачеркнула одну цифру и получила число 446. Какую цифру зачеркнула Ира?

Запишите решение и ответ.

Решение.

Ответ: